
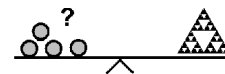


Name: \_\_\_\_\_

Klasse: \_\_\_\_\_



## Minikänguru 2019 - Klasse 1



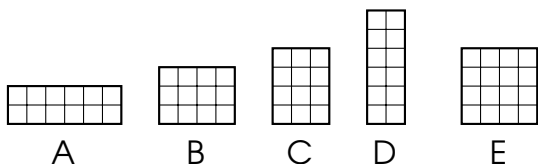
### A-1

$10 - 9 + 8 - 7 =$

0	16	2	1	12

### A-2

Welche Schokolade hat die meisten Stückchen?



A	B	C	D	E

### A-3

In einem Hasenkäfig zählt das Känguru 8 Beine.


Es sind  Hasen.

8	2	3	5	4

### A-4

Zähle alle Vierecke. Es sind  Vierecke.

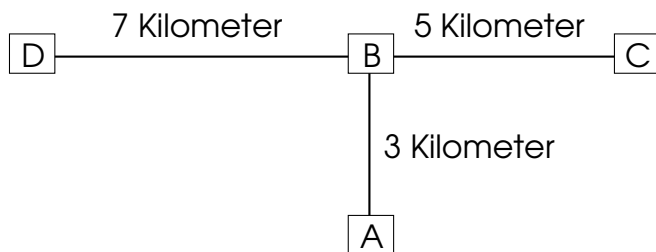
15	14	12	11	13



**B-1**

Das Känguru hüpft von Haus 7 vier Häuser weiter nach rechts. Es steht jetzt vor Haus

13	11	17	15	9

**B-2**

Der Bus fährt so:  
A → B → C → D

Der Bus fährt  Kilometer.

8	15	7	20	10

**B-3**

Das Känguru möchte mit einem Wurf eine 19 würfeln. Es möchte so wenige Würfel wie möglich nehmen.  
Wie viele Würfel muss das Känguru nehmen?



3	5	19	2	4


**B-4**

2     8     14     20         32     38     44

Welche Zahl fehlt?

28	25	26	24	23

C-1

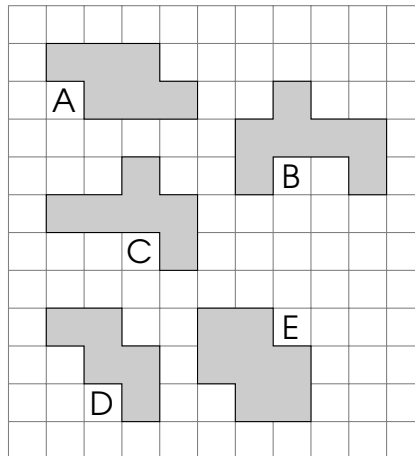
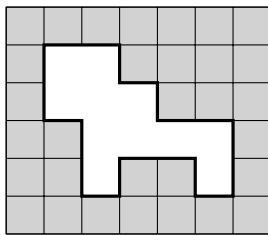


Auf einem Tisch stehen Teller mit Keksen. Das Känguru möchte genau 12 Kekse essen. Es möchte so wenige Teller wie möglich nehmen.

Das Känguru nimmt  Teller.

3	4	5	6	7

C-2



Das Känguru probiert aus, welche grauen Teile in das weiße Feld passen.

Das Teil  passt nicht.

(keine ✂ erlaubt)

A	B	C	D	E

C-3

Der Frosch sitzt auf dem Feld mit dem Punkt. Er hüpf von Feld zu Feld. Er kann nur so hüpfen:



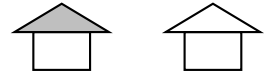
Der Frosch hüpf das Wort **M Ü C K E** mit ganz wenigen Sprüngen. Der Frosch macht  Sprünge.

		K	
Ü	C		
			E
•	M		

10	9	11	8	12

**C-4**

Ich habe viele weiße und graue Vierecke. Ich habe viele weiße und graue Dreiecke. Ich klebe damit Häuser.



Ich kann  verschiedene Häuser kleben.

3	2	6	5	4